

Задание №1 общее для всей группы.

Оформить титульный лист


Инструкция для работы.

1. Изучите материал учебника.
 2. Найдите фотографии столицы Японии, флага, герба страны.
 3. Отметьте на карте столицу государства.
 4. Отобранные материалы разместите на титульном листе (название страны, фотографии флага, герба, карты).
 5. Проверь правильность выполнения задания.
- При затруднении обратись к учителю!




Государственные символы


Флаги



Гербы

Герб Японии на самом деле является печатью. Императорская печать Японии представляет собой стилизованный под желтую хризантему символ из двух рядов по 16 лепестков. Данная печать используется японским императором и членами японской императорской семьи. Императорская печать иногда выступает в роли герба Японии, хотя официального герба в Японии не существует.





Столицы государств



Хельсинки-столица _____



Копенгаген-столица _____



Пекин-столица _____



Токио-столица _____

Задание №2 «Аналитик».

Подобрать и оформить материал по теме «Общие сведения о Финляндии»

Инструкция для работы.

1. Изучите материал учебника и карту.
2. Заполните карточку.
3. Проверь правильность выполнения задания.

При затруднении обратись к учителю!

Япония-страна _____
(как называют страну)

Япония-это _____ сосед России.
(восточный, западный, северный, южный)

Япония расположена

Рельеф: _____

Природные и климатические условия:

Задание №3 «Мыслитель».

Подобрать и оформить материал по теме «Промышленность и сельское хозяйство Японии»

Инструкция для работы.

1. Изучите материал учебника и дополнительный материал.
2. Заполните карточку.
3. Выберите подходящие к теме фото, дополните ими карточку

Проверь правильность выполнения задания.

При затруднении обратись к учителю!

Промышленность Японии



Задание №5 «Конструктор».

Оформить рубрику «На заметку путешественникам»

Инструкция для работы.

1. Ознакомьтесь с материалами о достопримечательностях Японии.
2. Заполнить таблицу, решив задачи.
3. Разместите «рубрику» в проспекте.
4. Проверь правильность выполнения задания.

При затруднении обратиться к учителю!

Достопримечательности Японии

1. Храм Тодай-дзи

Это самое священное место в Японии. Каждый год сюда приезжает три миллиона посетителей. Храм Тодай-дзи уменьшился в размерах в последствии пожаров, но до сих пор является самым большим деревянным сооружением в мире. Построили его в 745 году. В середине храма 15-ти метровая статуя Будды. Для ее изготовления потратили почти все запасы бронзы. На территории храма также живут любимые туристами олени. Сколько человек посетило храм в 21 веке?



2. Золотой павильон Кинкаку-дзи

Это сооружение, покрытое листами золота. Павильон соорудил Есимицу в 1397 году, когда устал от правления. Возле святилища расположено красивое озеро и сад, который считается одним из красивейших в стране. В нем много дорожек, ручейков и прудов. На первом этаже павильона принимают гостей, на втором находится выставка живописи. На третьем проводят религиозные обряды.



3. Диснейленд в Токио

В городе Ураясу расположен Токийский Диснейленд. Это первый диснеевский парк, построенный за пределами США. Он является частью целого курорта Дисней. Открылся он 15 апреля 1938 года. Территория парка составляет 465,000 м². Она разделена на 7 тематических зон. В парке работает 47 аттракционов. Там же есть магазины, кафе, отели. Работает Диснейленд круглый год и является третьим по популярности парком в мире.



4. **Токийская башня** — настоящая гордость для жителей столицы и для всех японцев. Ведь она была построена в 1958 году. В то время, когда страна ценой невероятных усилий возрождалась после событий Второй мировой войны. Она считалась самой высокой во всем мире на протяжении 9 лет. Неподражаема красива телебашня в часы, когда на Токио опускается ночь, город меняет наряд на миллионы огоньков, а подсветка телебашни в этом калейдоскопе играет ведущую роль. На ней располагается целых 176 прожекторов.



На заметку путешественникам
(Обязательно для посещения в Японии)

Город	Достопримечательность	Год создания	Возраст

Задание №6 общее для всей группы.

«Оформление макета «Проспекта для путешественника»

Инструкция для работы.

1. Оформить макет проспекта, используя предоставленные материалы.
и материалы, подобранные самостоятельно.
2. Подготовить выступление группы - рассказ о стране.

При затруднении обратиться к учителю!

Задание №1 общее для всей группы.

«Оформить титульный лист»

Инструкция для работы.



1. Изучите материал учебника
2. Найдите фото столицы Финляндии, флага, герба страны.
3. Отметьте на карте столицу государства.
4. Отобранные материалы разместите на титульном листе (название страны, фотографии флага, герба, карты).

При затруднении обратиться к учителю!





Государственные символы

Флаги



Гербы

Герб Финляндии - это красный щит, на котором изображен лев. Его голова покрыта короной, а в своей правой руке он удерживает меч. Нужно отметить, что задние лапы животного стоят на восточной сабле. Есть разные версии и одна из них, что это символизирует победу Швеции над своим восточным соседом Россией. У скандинавских народов лев всегда ассоциировался с властью и силой, а вокруг льва можно заметить девять серебряных розеток, не несущих глубокого смысла и использованных в декоративных целях. По неподтвержденной версии число девять выбрано по количеству первых исторических областей государства. До XVI века у страны не было своего герба, пока король Швеции Густав Ваза не передал финские земли своему сыну Юхану III.



Столицы государств



Хельсинки-столица _____



Копенгаген-столица _____



Пекин-столица _____



Токио-столица _____

Задание №2 «Аналитик».

Подобрать и оформить материал по теме «Общие сведения о Финляндии»

Инструкция для работы.

1. Изучить материал учебника и карту.
2. Заполнить рубрику.
3. Проверь правильность выполнения задания.

При затруднении обратиться к учителю!

Финляндия – страна _____
(как называют ее финны)

Финляндия - это _____ сосед России.
(восточный, западный, северный, южный)

Финляндия расположена

Рельеф: _____

Природные и климатические условия:

Задание №3 «Мыслитель».

Подобрать и оформить материал по теме «Промышленность и сельское хозяйство Финляндии»

Инструкция для работы.

1. Изучите материал учебника и дополнительный материал.
2. Заполните карточку.
3. Выберите подходящие к теме фото, дополните ими карточку
4. Проверь правильность выполнения задания.

При затруднении обратись к учителю!

Промышленность и сельское хозяйство Финляндии

Географическое положение Финляндии не помешало ее экономике стать одной из самых успешных в Европейском союзе. Для страны характерно малое количество полезных ископаемых и ресурсов, низкая плотность населения, крайне суровый климат и большие расстояния между городами и селами. Поэтому экономическая жизнь Финляндии во много зависит от грамотного и эффективного государственного и регионального управления. Большой упор в финской экономике делается на несколько отраслей народного хозяйства, а именно, на электронику и целлюлозную промышленность.

Сельское хозяйство, как часть экономики, в Финляндии представлено животноводством и растениеводством. В стране производится мясо, птица, пушные породы животных. Однако, борьба защитников животных приводит к сокращению производства пушнины и ценного меха.



Туризм

Финляндия приготовила зимой: горнолыжные курорты, деревня Санта-Клауса. Ну а встреча Нового года и давняя детская мечта очень многих.





Задание №4 «Фантазер».

Подобрать и оформить материал по теме «Особенности Финляндии»

Инструкция для работы.

1. Изучите материал учебника.
2. Заполните карточку. Выберите подходящие к теме фото, дополните ими карточку.
3. Проверь правильность выполнения задания.

При затруднении обратись к учителю!

Особенности Финляндии

Задание №4 «Конструктор».

Оформить рубрику «На заметку путешественникам»

Инструкция для работы.


1. Ознакомьтесь с материалами о достопримечательностях Финляндии.
2. Заполни таблицу, решив задачи.
3. Размести «рубрику» в проспекте.
4. Проверь правильность выполнения задания.

При затруднении обратись к учителю!

Достопримечательности Финляндии

1. Крепость Свеаборг

Эта морская крепость, находится в столице Финляндии городе Хельсинки и является главной исторической достопримечательностью. Построенная еще в 1748 году, крепость исправно выполняла роль защитницы города. Сто лет Свеаборг, более известный в Финляндии как Суоменлинна, находился под управлением Российской империи, так что здесь много свидетельств именно русской истории, например, остались пушки с надписями на русском языке. Кроме того, в Свеаборге находятся несколько музеев, а сама крепость настолько красива, что просто прогулка по ней принесет много удовольствия.



2. В устье реки Йоки расположилась ещё одна важная достопримечательность Финляндии — **замок Або, или Турку**. История существования замка ведёт отсчёт с 1280 года, когда шведы на месте будущего замка решили основать форт. На протяжении нескольких столетий вплоть до 16 века крепость укреплялась, расширялась и достраивалась, пока не была переоборудована в прекрасный дворец, который стал местом проведения различных торжеств с участием знатных и высокопоставленных особ. Сегодня в стенах замка Турку располагается исторический музей.



3. Водоскат Иматранкоски

Некогда это был созданный самой природой водопад на реке Вуокса. Однако в 1920-х годах здесь построили ГЭС и перекрыли водопад плотиной. Сегодня летом проводится искусственный спуск воды на Иматранкоски, который превращается в настоящий туристический аттракцион. Тысячи людей собираются посмотреть на мощный поток воды, который быстро заполняет каменистое русло и бурлит пеной, скатываясь вниз. Для наблюдения за водоскатом Иматранкоски на берегах созданы специальные площадки.



4. Темпелиаукио

Темпелиаукио представляет собой не просто церковь, а вырубленное в скале строение, которое прославилось уникальной архитектурой. Темпелиаукио открыли только в 1969 году, а теперь ее посещают почти полмиллиона туристов ежегодно. Сколько человек посетили церковь в 21 веке? Стены церкви из натурального камня скалы практически не обрабатывали, кажется, что это и не храм вовсе, а пещера, хотя есть здесь и орган, и 180 окон вокруг купола. В Темпелиаукио с ее отличной акустикой проводятся музыкальные вечера.



На заметку путешественникам
(Обязательно для посещения в Финляндии)

Город	Достопримечательность	Год рождения, век	Возраст

Задание №6 общее для всей группы.

«Оформление макета «Проспекта для путешественника»

Инструкция для работы.

1. Оформить макет проспекта, используя предоставленные материалы и материалы, подобранные самостоятельно.
2. Подготовить выступление группы - рассказ о стране.

При затруднении обратиться к учителю!

Задание №1 общее для всей группы.

«Оформить титульный лист»

Инструкция для работы.



1. Изучите материал учебника
2. Найдите
3. фото столицы Финляндии, флага, герба страны.
4. Отметьте на карте столицу государства.
5. Отобранные материалы разместите на титульном листе (название страны, фотографии флага, герба, карты).
6. Проверь правильность выполнения задания.

При затруднении обратиться к учителю!




Государственные символы


Флаги



Гербы

Герб Китая представлен входными воротами в Запретный город в Пекине (символизирующими древние традиции китайского народа), с пятью звездами, изображенными над ними (символизирующими коммунистическую партию Китая, и четыре социальных класса). По краям герба проходит рамка, представленная колосьями пшеницы и риса (символизирующими аграрную революцию). Внизу герба расположено зубчатое колесо (обозначающее работников промышленности).





Столицы государств



Хельсинки-столица _____



Копенгаген-столица _____



Пекин-столица _____



Токио-столица _____

Задание №2 «Аналитик».

Подобрать и оформить материал по теме «Общие сведения о Китае»

Инструкция для работы.

1. Изучите материал учебника и карту.
2. Заполните карточку.
3. Проверь правильность выполнения задания.

При затруднении обратиться к учителю!

Китай-страна _____
(как называют страну)

Китай-это _____ сосед России.
(восточный, западный, северный, южный)

Китайская Народная Республика расположена

Рельеф: _____

Природные и климатические условия:

Задание №3 «Мыслитель».

Подобрать и оформить материал по теме «Промышленность и сельское хозяйство Китая»

Инструкция для работы.

1. Изучите материал учебника и дополнительный материал.
2. Заполните карточку.
3. Выберите подходящие к теме фото, дополните ими карточку.
4. Проверь правильность выполнения задания.

При затруднении обратись к учителю!

Промышленность Китая _____

Сельское хозяйство:



Задание №3 «Фантазер».

Подобрать и оформить материал по теме «Особенности Китая»

Инструкция для работы.

1. Изучите материал учебника.
2. Заполните рубрику.
3. Выберите подходящие к теме фото, дополните ими рубрику.
4. Проверь правильность выполнения задания.

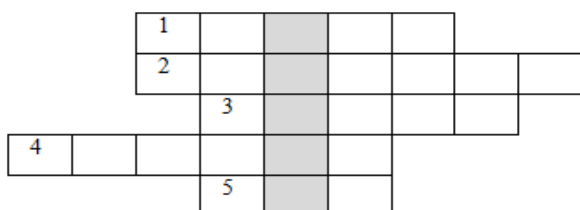
При затруднении обратись к учителю!

Особенности Китая _____

Задание №5 «Конструктор».

Разгадай кроссворд «Китай». Размести его на своей страничке.

Кроссворд «Китай»



1. Столица Китая.
2. Искусство складывания бумаги.
3. Достопримечательность страны – Великая Китайская.
4. Изобретенный в Китае прибор, помогающий не заблудиться в далеких путешествиях.
5. Изобретенный в Китае напиток, прогоняющий усталость.

Задание №6 общее для всей группы.

«Оформление макета «Проспекта для путешественника»

Инструкция для работы.

1. Оформить макет проспекта, используя предоставленные материалы.
и материалы, подобранные самостоятельно.
2. Подготовить выступление группы - рассказ о стране.

При затруднении обратиться к учителю!

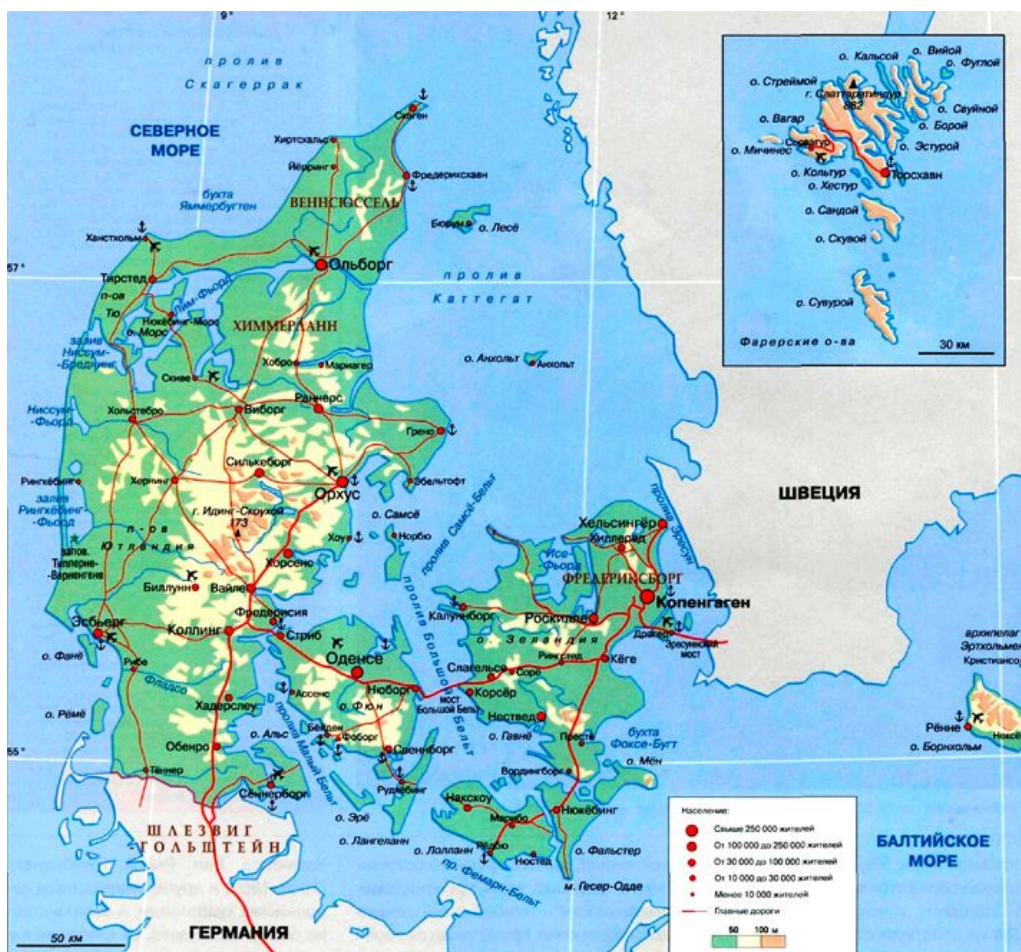
Задание №1 общее для всей группы.

«Оформить титульный лист»

Инструкция для работы.



1. Изучите материал учебника.
2. Найдите фото столицы Дании, флага, герба страны.
3. Отметьте на карте столицу Дании.
4. Отобранные материалы разместите на титульном листе (название страны, фотографии карты, герба, флага).
5. Проверь правильность выполнения задания.

При затруднении обратиться к учителю!




Государственные символы


Флаги



Гербы

Государственный герб Дании представлен щитом золотого цвета, на котором изображено три льва в коронах, смотрящих налево, вокруг которых расположено девять сердец. На щите находится корона короля Кристиана V. Текущая версия герба Дании была принята в 1819 году во время правления короля Фредерика VI.





Столицы государств



Хельсинки-столица _____



Копенгаген-столица _____



Пекин-столица _____



Токио-столица _____

Задание №2 «Аналитик».

Подобрать материал по теме «Общие сведения о Дании»

Инструкция для работы.

1. Изучите материал учебника и карту.
2. Заполните рубрику.
3. Проверь правильность выполнения задания.

При затруднении обратиться к учителю!

Дания— _____
(другое название страны)

Дания-это _____ сосед России.
(восточный, западный, северный, южный)

Дания расположена _____

Рельеф: _____

Природные и климатические условия: _____

Задание №3 «Мыслитель».

Подобрать и оформить материал по теме «Промышленность и сельское хозяйство Дании»

Инструкция для работы.

1. Изучите материал учебника и дополнительный материал.
2. Заполните карточку.
3. Выберите подходящие к теме фото, дополните ими карточку.
4. Проверь правильность выполнения задания.

При затруднении обратиться к учителю!

Промышленность и сельское хозяйство





Задание №4 «Фантазер».

Подобрать и оформить материал по теме «Особенности Дании»

Инструкция для работы.

1. Изучите материал учебника.
2. Заполните карточку.
3. Выберите подходящие к теме фото, дополните ими карточку.
4. Проверь правильность выполнения задания.

При затруднении обратись к учителю!

Особенности Дании _____

Задание №5 «Конструктор».

Оформить рубрику «На заметку путешественникам»


Инструкция для работы.

1. Ознакомьтесь с материалами о достопримечательностях Финляндии.
2. Заполнить таблицу, решив задачи.
3. Разместите «рубрику» в проспекте.
4. Проверь правильность выполнения задания.

При затруднении обратись к учителю!

Достопримечательности Дании


1. В 2013г. исполнилось 100 лет с того времени, как статуя Русалочки появилась в порту Копенгагена. В каком году какого века Русалочка появилась на берегу моря? Сколько лет исполнилось памятнику в этом году?



2. В небольшом городке Биллунд датчане сотворили чудо-страну – ЛегоЛенд. ЛегоЛенд Дании ежегодно посещает около миллиона туристов с детьми со всего мира. Он был открыт в июне 1968 года в самом центре страны на полуострове Ютландия, в небольшом городке Биллунд и занимал в то время 38000 кв. м. Сегодня площадь Леголенда составляет уже около 100000 кв. м, да еще и с каждым годом увеличивается. Сколько туристов посетило ЛегоЛенд в 21 веке? На сколько кв. м увеличилась площадь парка?



3. **Эресуннский мост.** Эресуннская линия соединяет Данию со Швецией, является автомобильной и железнодорожной магистралью. Конструкция включает в себя мост, искусственный остров и подводный туннель. Он имеет протяженность более 7 тыс м. Проезд платный – примерно 46 евро. На открытии моста в 2000г присутствовали король Карл Густав и королева Маргарет.



4. **Церковь Спасителя (Church of Our Saviour) в Копенгагене**
Церковь Христа Спасителя легко узнать по необычному виду башни, которая чем-то похожа на торт. Храм и его колокольня имеют различные даты окончания строительства. Основное помещение возводили 14 лет (1682-1896) по чертежам Ламберта фон Хавена. Колокольня с необычной наружной винтовой лестницей в 400 ступеней и венчающий это сооружение, позолоченный купол с фигурой Иисуса были построены в 1750 году уже при новом короле Дании Фредерике V. Это главный храм Копенгагена, который, кроме всего прочего, уникален действующим органом 17в и карильоном из 48 колоколов.



5. Мыс Гренен

Самая северная точка Дании славится тем, что здесь встречаются два моря – Балтийское и Северное. Чтобы увидеть вполне обозримую границу, нужно пройти пешком по косе, зачастую преодолевая песчаную поземку. Купание в этом месте строго запрещено по причине сильных течей. В 15в на берегу был построен маяк, который является действующим до сих пор. Еще одна достопримечательность этого места – церковь-предупреждение тем, которые строят свой дом на песке, а не на камне. Целый этаж этого здания засыпало песком, и прихожане покинули его.



На заметку путешественникам
(Обязательно для посещения в Дании)

Город	Достопримечательность	Год создания	Возраст

Задание №6 общее для всей группы.

«Оформление макета «Проспекта для путешественника»

Инструкция для работы.

1. Оформить макет проспекта, используя предоставленные материалы.
2. и материалы, подобранные самостоятельно.
3. Подготовить выступление группы - рассказ о стране.

При затруднении обратиться к учителю!